

Инструкция к экзамену

1. Экзамен состоит из трех обязательных частей:
 - A. подсчет стоимостей рук,
 - B. определение ожиданий,
 - C. выбор сброса для максимизации уке-ире.
2. Для успешной сдачи необходимо в двух частях из трех набрать минимум по 23 балла.
3. Однотипные ошибки не будут считаться за одну.
4. Частично верные ответы могут быть засчитаны за половину правильного.
5. Экзамен содержит дополнительную часть с общими вопросами и задачами.
6. Если по результатам проверки обязательных частей экзамен сдан, дополнительная не проверяется.
7. В противном случае правильные ответы дополнительной части добавляются к самой худшей из обязательных частей, а ошибочные – вычитаются из самой лучшей обязательной части.
8. Усредненные таким образом обязательные части пересчитываются еще раз.
9. Не забывайте подписывать на каждом листе свою фамилию.
10. Словарь японских терминов, используемых в экзамене:
 - A. 場 - р а у н д
 - B. 家 - п о з и ц и я
 - C. ツモ - ц у м о
 - D. ロン - р о н
 - E. ドラ - д о р а
 - F. オール - «с к а ж д о г о»

Дополнительная часть – общие вопросы (по 2 балла за ответ). Напишите правильные ответы, там где это необходимо, обоснуйте свой ответ или приведите пример.






1. Когда игроку не разрешается объявлять риичи? _____

2. Чем равно максимальное число шантен для стартовой руки? _____

3. Два игрока имеют равное количество очков, кто займет более высокое место? _____

4. Может ли уке-ире в ишантене быть больше 100? _____























































5. Что происходит при открытии четвертого кана? _____

6. Что объединяет эти тайлы:     ? Назовите остальные 15: _____

7. Когда перестает действовать временный фуриден? _____

8. Второй восточный раунд, вы на западе и отстаєте от лидера более чем на 8000 очков. Ваша рука на третьем круге:                     цумо:  дора: . Что снести? _____

9. В начале раздачи у вас рука без дор:                       цумо:  - какой тайл лучше сбросить? Каким будет ваш ответ, если в руке будет дора? _____

10. Начало первой сдачи, вы не дилер, угроз нет. Ваша рука:                   цумо:                                    . Какое ожидание вы выберете? Объявите ли риичи? _____
